





**Evaluare inițială: Structuri perceptiv motrice- FIGURI
GEOMETRICE**

Numele:

Data:

1. Recunoaște figurile geometrice

2. Completează propozițiile de mai jos:



Tabloul are formă _____ .



Nuca de cocos are formă _____ .



Bradul are formă de _____ .



Masa are formă de _____ .



Portocala are formă de _____ .