

FICHE DE TRAVAIL / FIȘĂ DE LUCRU

Domeniul cognitiv

Nume elev:.....

Clasa a IVa

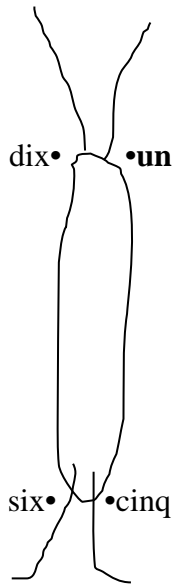
An școlar:.....

Subiectul : Les nombres de 1 à 10

Exercice 1. Liez les nombres de 1 à 10 et trouvez le dessin caché.(Uniți numerele de la 1 la 10 și găsiți desenul ascuns)

•neuf

•deux



•huit

•trois

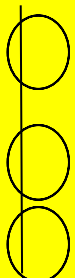
•sept

•quatre

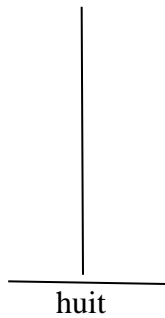
.....

Exercice 2. Observez avec attention le nombre indiqué et dessinez des balles. (Observați cu atenție numărul scris și desenați mingile corespunzătoare)


Modèle




trois




huit



neuf

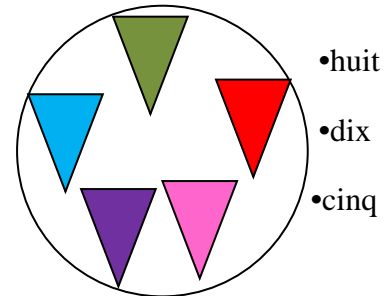



cinq



sept

Exercice 3. Entourez le nombre correspondant pour les éléments du cercle. (Incercuiți numărul care corespunde elementelor din cerc)



Exercice 4. Regardez avec attention l'image et écrivez dans la phrase, en lettres, le nombre convenable. (Priviți cu atenție imaginea și completați propoziția cu numărul convenabil, scris în litere.)

a. Dans la photo il y aenfants.



b. Dans la boîte il y aballes éducatives.



c. Dans le panier, il y apoires



etpommes

d. Dans la photo il y achiens.



Exercice 5. Ordonnez les lettres pour écrire correctement les nombres (Ordonăți literele și scrieți corect numerele)

X i d

fneu

a. ?

b. ?