


Nume: _____

Data: _____

Înțelegerea operației de înmulțire


Privește imaginile. Observă modelul și completează operațiile de înmulțire.



$$4 \times 6 = 24$$




$$\square \times \square = \square$$




$$\square \times \square = \square$$



$$\square \times \square = \square$$



$$\square \times \square = \square$$



$$\square \times \square = \square$$