

**EVALUAREA COMPETENȚELOR FUNDAMENTALE  
LA FINALUL CLASEI a II-a**

**Pentru un elev cu CES**

**Test de antrenament**

**MATEMATICĂ**

**Judetul / sectorul.....**

**Localitatea.....**

**Scoala.....**

**Numele si prenumele elevei / elevului**

.....

**Clasa a II-a**

**Băiat**

**Fată**

Elevii clasei a II-a au vrut să realizeze un colaj cu titlul **La Paști**. Ei au decupat diferite imagini pe care apoi să le lipească, pentru a realiza colajul. Numărul imaginilor decupate este scris în tabelul de mai jos.

			
Ouă colorate <b>121</b>	Iepurași <b>54</b>	Coșulețe <b>103</b>	Miei <b>141</b>

1. Câte imagini cu iepurași și miei au decupat în total?

Încercuiește litera corespunzătoare răspunsului corect.

- a)  $121 + 54 = 175$   
 b)  $54 + 141 = 191$   
 c)  $103 + 121 = 224$   
 d)  $41 + 103 = 244$

*Nu se*

*completează de către elev*

COD

1.

2. Compară numărul imaginilor cu coșulețe cu cel al ouălor colorate!

Scrie, în caseta de mai jos, unul din semnele  $<$ ,  $=$ ,  $>$ !

$103 \square 121$

*Nu se completează de către elev*

COD

2.

3. Află diferența dintre numărul imaginilor cu miei și numărul imaginilor cu ouă colorate:  $141 - 121 = ?$

- a) 200  
 b) 20  
 c) 21  
 d) 262

*Nu se completează de către elev*

COD

3.

4. Cu ce figură geometrică se aseamă rama colajul realizat de copii?



- a) cerc
- b) dreptunghi
- c) triunghi
- d) pătrat

Nu se completează de către elev  
COD

4.

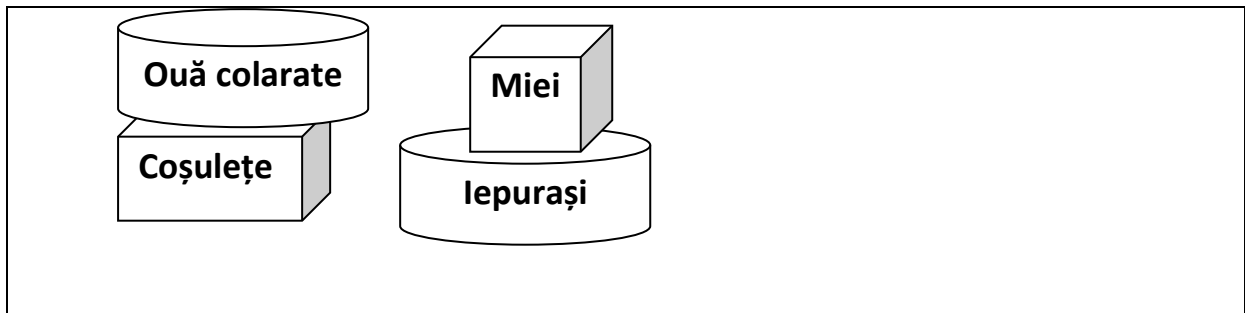
5. Maria a decupat 24 imagini cu coșulețe, iar Ana cu 3 ori mai multe. Câte imagini cu coșulețe a decupat Ana?

Scrie pe spațiul dat, rezolvarea problemei.


Nu se completează de către elev  
COD

5.

6. Pentru colaj imaginile decupate au fost așezate în cutii diferite. Cutiile sunt așezate ca în imaginea de mai jos.



Care din următoarele propoziții este adevărată?  
Încercuiește litera corespunzătoare răspunsului corect.

- a) Cutia cu iepurași este deasupra cutiei cu coșulețe.
- b) Cutia cu miei este deasupra cutiei cu iepurași.
- c) Cutia cu ouă colorate este sub cutia cu miei.
- d) Cutia cu iepurași este sub cutiei cu coșulețe.

Nu se completează de către elev  
COD

6.

7. Copii au așezat 12 imagini decupate pentru colaj, în cutii de câte 3 bucăți fiecare. Câte cutii au folosit pentru imagini?

**Află rezultatul prin scădere repetată a aceluiași număr.**




Scrie pe spațiul dat, rezolvarea problemei.

	1	2	:		4	=													

Nu se completează de către elev  
COD

7.

8. Pentru a calcula mai ușor numărul de imagini decupate de el Alin le-a drupat ca în imagine de mai jos. Câte imagini a decupat Alin?  
Află rezultatul prin adunare repetată a aceluiași număr.



Scrie pe spațiul dat, rezolvarea problemei.

		2	x	5	=															

Nu se completează de către elev  
COD

8.




9. Copii au decupat imaginile pentru colaj de la ora 10:00 până la ora 13:00.  
Câte ore au lucrat copii la decuparea imaginilor?  
Încercuiește litera corespunzătoare răspunsului corect.

- a) 2 ore
- b) 3 ore
- c) 1 oră
- d) 4 ore

Nu se completează de către elev  
COD

9.

10. Imaginile decupate au fost aranjate respectând regula din șirul de mai jos.  
Ce imagine urmează în șir?  
Încercuiește litera corespunzătoare răspunsului corect.



*Nu se completează de către elev*  
COD

10.	<input type="text"/>
-----	----------------------

**FELICITĂRI, AI AJUNS LA SFÂRȘITUL TESTULUI!**  
**MULȚUMIM PENTRU PARTICIPARE!**